

भाग-अ / Section-A  
मानसिक योग्यता / Mental Ability

1. निम्नलिखित शब्दों को शब्दकोष के क्रमानुसार क्रमबद्ध कीजिये -

1 - Calamondin      2 - Calcareous  
3 - Calamites      4 - Calcifuge  
5 - Calciferol

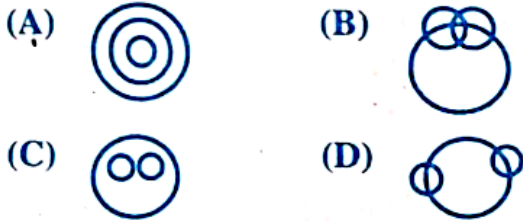
(A) 5,3,4,2,1      (B) 4,1,5,2,3  
(C) 1,3,5,2,4      (D) 3,1,2,5,4      [D]

2. शब्दों को अर्थपूर्ण क्रम में व्यवस्थित करें -

1 - परीक्षा      2 - कक्षा  
3 - प्रवेश      4 - परिणाम  
5 - शिक्षण

(A) 4,3,2,5,1      (B) 1,4,3,2,5  
(C) 3,2,5,1,4      (D) 5,2,3,1,4      [C]

3. निम्नलिखित में से कौनसा वेन आरेख वर्गों के बीच संबंध को सही ढंग से दर्शाता है?  
भोजन, मटर, सब्जियाँ



[A]

4. यदि किसी निश्चित कूट भाषा में PRESSURE को ERUSSERP के रूप में कूटबद्ध किया जाता है, तो उसी कूट भाषा में SUCCESS को कैसे कूटबद्ध किया जायेगा?

(A) SSECCUS      (B) SSCCEUS  
(C) CCESSUS      (D) SCCUSSE      [A]

5. कथन - कलकत्ता से मुम्बई जल्दी पहुँचने के लिये हवाई जहाज से जायें।

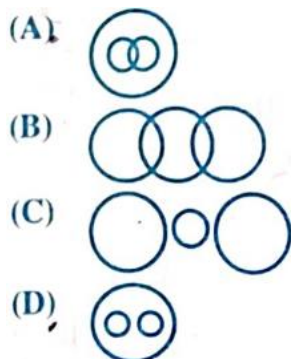
धाराणाएं -

(I) कलकत्ता और मुम्बई हवाई सेवा से जुड़े हुये हैं।

(II) कलकत्ता से मुम्बई जाने का कोई अन्य साधन नहीं है।

(A) केवल I अन्तर्निहित है  
(B) I और II दोनों अन्तर्निहित हैं  
(C) केवल II अन्तर्निहित है  
(D) न तो I और ना ही II अन्तर्निहित है      [A]

6. निम्नलिखित में से कौनसा चित्र भाषाओं, फ्रेंच और जर्मन के बीच संबंध को सही ढंग से दर्शाता है?



[D]

7. यदि PASTLE को 1,2,3,4,5 के रूप में कूटबद्ध किया गया है और STOCK को 3,4,7,8,9 के रूप में कूटबद्ध किया गया है, तो PEACOCK को कैसे कूटबद्ध किया जायेगा?

(A) 1,6,2,7,8,9,8      (B) 1,6,8,2,7,8,9  
(C) 1,6,2,8,7,8,9      (D) 6,1,2,7,8,7,9      [C]

8. लुप्त पद ज्ञात कीजिये -

MPSK : QTWO :: CKZM : ?

(A) DOGQ      (B) GODQ  
(C) GQDO      (D) OGDQ      [B]

9. निम्नलिखित में से विषम को खोजें -

(A) हाथी      (B) जिराफ  
(C) खरगोश      (D) शेर      [D]

10. प्रातः 6:20 बजे घड़ी की दोनों सुईयाँ कौनसा कोण बनायेंगी?

(A) 75°      (B) 70°  
(C) 60°      (D) 45°      [B]

11. लुप्त वर्णमाला का पद ज्ञात कीजिये

af, di, gl, ....., mr, pu -

(A) hm      (B) zc  
(C) jo      (D) qj      [C]

12. श्रृंखला में अगली संख्या पहचानें -

13, 18, 28, 48, .....

(A) 58      (B) 62  
(C) 68      (D) 88      [D]

13. निम्नलिखित प्रश्न में दिये गये विकल्पों में से संबंधित शब्द को चुनिये : डॉक्टर : दवाई :: ?

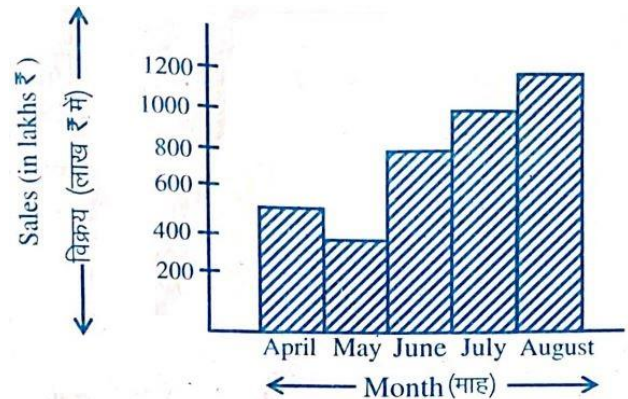
(A) मेज : किताब      (B) पंखा : ट्यूबलाईट  
(C) शिक्षक : ज्ञान      (D) मोबाईल : चार्जर      [C]

14. दिये गये विकल्पों में से लुप्त संख्या को चुनिये -

3	8	9
7	?	2
10	3	6
210	120	108

(A) 5      (B) 8  
(C) 4      (D) 7      [A]

- निर्देश - उपरोक्त ग्राफ को ध्यानपूर्वक अध्ययन करके निम्न प्रश्नों का उत्तर दें (15-17) -



15. निम्नलिखित में से किस महीने के दौरान, पिछले महीने की तुलना में बिक्री का अनुपात सर्वाधिक है?

- (A) जून (B) अप्रैल  
(C) मई (D) जुलाई [A]

16. निम्नलिखित में से किस अवधि में बिक्री में लगातार वृद्धि हुई है?

- (A) मई से जुलाई (B) मई से अगस्त  
(C) जून से अगस्त (D) अप्रैल से अगस्त [B]

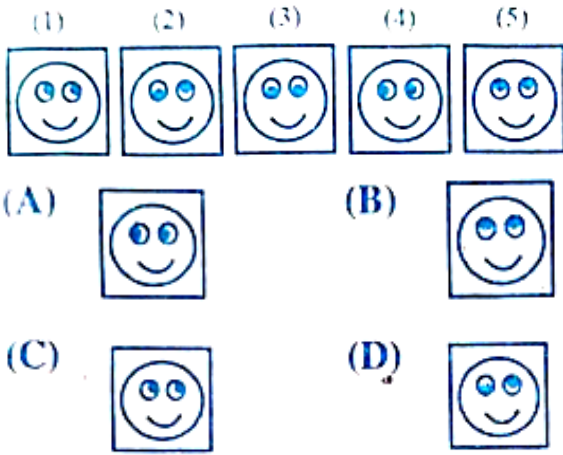
17. औसत मासिक विक्रय है (लाख ₹ में) -

- (A) 600 (B) 650  
(C) 620 (D) 780 [D]

18. 5% वार्षिक साधारण ब्याज की दर से 10 वर्षों में कितनी धनराशि पर 120/- ₹ ब्याज प्राप्त होगा?

- (A) 350/- (B) 280/-  
(C) 360/- (D) 240/- [D]

19. निम्नलिखित पांच आकृतियों में से, चार आकृतियाँ किसी न किसी प्रकार से एक समान हैं और एक उस प्रकार से भिन्न है। भिन्न आकृति का चयन करें -



[D]

20. एक मिश्रण में सीमेन्ट और पानी का अनुपात 4:3 है। यदि मिश्रण में 5 लीटर पानी मिलाया जाये तो अनुपात 4:5 हो जाता है। दिये गये मिश्रण में सीमेन्ट की मात्रा ज्ञात कीजिये।

- (A) 8 लीटर (B) 10 लीटर  
(C) 9 लीटर (D) 11 लीटर [B]

21. एक निश्चित कोड में BOARD को 53169 लिखा जाता है और NEAR को 2416 लिखा जाता है, तो उसी कोड में NODE कैसे लिखा जायेगा?

- (A) 2394 (B) 2894  
(C) 2934 (D) 2694 [A]

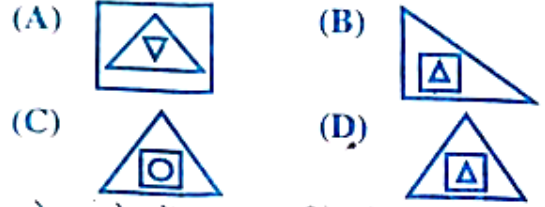

22. निम्न में से कौनसा असंगत है?

- (A) कावेरी (B) गंगा  
(C) चम्बल (D) भाखड़ा [D]

23. अरुण और दीपक की वर्तमान आयु के बीच का अन्तर 14 वर्ष है। सात वर्ष पूर्व उनकी आयु का अनुपात क्रमशः 5:7 था, तो दीपक की वर्तमान आयु क्या है?

- (A) 42 वर्ष (B) 49 वर्ष  
(C) 63 वर्ष (D) 35 वर्ष [B]

24. चार विकल्पों में से एक उपयुक्त आकृति का चयन करें जो आकृति मैट्रिक्स को पूरा करेगी-



[D]

25. आधे घंटे में एक घड़ी की लम्बी सुई कितने डिग्री का कोण घूमेगी?

- (A) 90° (B) 120°  
(C) 75° (D) 180° [D]

26. प्रश्न चिन्ह का स्थान कौनसा अक्षर लेगा?

E	J	O	T
Z	S	?	Y
U	N	I	D
P	K	F	A

- (A) W (B) X  
(C) Q (D) S [D]

27. निम्न में से कौनसा विकल्प दूसरों से अलग है?

- (A) श्रीलंका (B) जापान  
(C) न्यूजीलैण्ड (D) कनाडा [A]

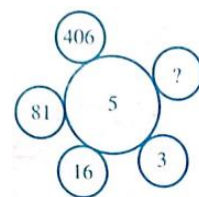
28. संख्या 10 से 20 तक की सम संख्याओं का औसत क्या है?

- (A) 12 (B) 15  
(C) 16 (D) 14 [B]

29. एक व्यक्ति किसी वस्तु को निश्चित मूल्य बेचने पर 20% लाभ प्राप्त करता है. यदि इसे दोगुने मूल्य पर बेचता है, तो पुराने विक्रय मूल्य पर कितना % (प्रतिशत) लाभ होगा?

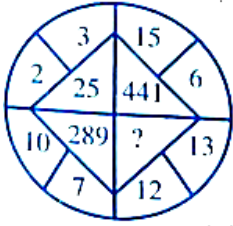
- (A) 120% (B) 40%  
(C)  $66\frac{2}{3}\%$  (D) 100% [D]

30. निम्न प्रश्न में दिये गये विकल्पों में से प्रश्नवाचक चिन्ह के स्थान पर आने वाली संख्या ज्ञात कीजिये -




- (A) 1 (B) 2031  
(C) 731 (D) 1625 [B]

31. यदि महीने का 7वाँ दिन शुक्रवार से तीन दिन पहले है, तो महीने के 19वें दिन कौनसा दिन होगा?  
 (A) सोमवार (B) रविवार  
 (C) बुधवार (D) शुक्रवार [B]
32. एक परिवार घूमने निकला। पुत्री अपने पिता से आगे चली। पुत्र अपनी माता से पीछे चल रहा था और पिता से आगे। सबसे पीछे कौन था?  
 (A) पुत्र (B) पिता  
 (C) माता (D) पुत्री [B]
33. सही ढंग से खाली स्थान की पूर्ति करें -  
 जीवाश्म : विलुप्ति :: पोखर : ?  
 (A) बारिश (B) गीला  
 (C) झील (D) सूखा [D]
34. निम्न प्रश्न में दिये गये विकल्पों में से प्रश्नवाचक चिन्ह के स्थान पर आने वाली संख्या ज्ञात कीजिये-



- (A) 125 (B) 25  
 (C) 156 (D) 625 [D]
35. निम्न में से कौनसा एक लीप वर्ष है?  
 (A) 1982 (B) 1978  
 (C) 1945 (D) 1704 [D]
36. TAX आकृति की दर्पण छवि क्या होगी?  
 (A) XVL (B) TAX  
 (C) LVX (D) XAT [D]
37. दिये गये उत्तरों में से कौनसा निम्नलिखित शब्दों का सार्थक क्रम होगा?  
 1 - हॉठ 2 - आंखें  
 3 - नाक 4 - कान  
 5 - ललाट  
 (A) 1,2,3,4,5 (B) 5,4,3,2,1  
 (C) 5,2,4,3,1 (D) 1,3,4,2,5 [C]
38. निम्नलिखित श्रेणी में लुप्त पद है -  
 37,40,45,52,61,72,85, .....  
 (A) 100 (B) 99  
 (C) 98 (D) 101 [A]
39. चार विकल्पों में से एक उपयुक्त आकृति का चयन करें जो आकृति मैट्रिक्स को पूरा करेगी-



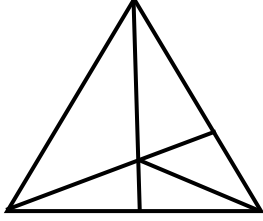
- (A) (B) [C]  
 (C) (D)

40. यदि टीवी को रेडियो कहा जाता है, रेडियो को ओवन, ओवन को ग्राइन्डर, ग्राइन्डर को आयरन कहा जाता है, तो एक महिला बेक किसमें करेगी?  
 (A) रेडियो (B) ओवन  
 (C) ग्राइन्डर (D) आयरन [C]
41. 'अ' किसी कार्य को 12 दिनों में पूरा कर सकता है। 'अ' और 'ब' मिलकर उसी कार्य को 8 दिनों में पूरा कर सकते हैं, तो बताईये 'ब' अकेला उसी कार्य को कितने दिनों में पूरा कर सकता है?  
 (A) 15 दिन (B) 24 दिन  
 (C) 18 दिन (D) 28 दिन [B]
42. निम्नलिखित प्रश्न में अनुपस्थित (लुप्त) संख्या ज्ञात कीजिये -

5	6	5
8	9	7
10	7	9
400	378	?

- (A) 305 (B) 315  
 (C) 455 (D) 533 [B]
43. निम्नलिखित प्रश्न के चार विकल्प दिये गये हैं, उनमें से कौनसा विकल्प घूमर, बीहू एवं गरबा के समान है?  
 (A) कथकली (B) भारतनाट्यम  
 (C) कुचिपुड़ी (D) भांगड़ा [D]
44. दिये गये विकल्पों में से संबंधित शब्द-युग्म का चयन करें -  
 दांत : काटना :: ..... : .....  
 (A) पैर : चलना  
 (B) झाड़ू : उड़ना  
 (C) ट्यूबलाईट : गुर्मी  
 (D) भोजन : गंध [A]
45. निम्नलिखित को तार्किक क्रम में व्यवस्थित करें -  
 1 - कन्धा 2 - कलाई  
 3 - कोहनी 4 - हथेली  
 5 - अंगुली  
 (A) 2,4,5,3,1 (B) 3,1,4,2,5  
 (C) 3,4,5,2,1 (D) 5,4,2,3,1 [D]
46. यदि 2 है 55, तो 6 होगा-  
 (A) 44 (B) 33  
 (C) 9 (D) 99 [D]
47. एक लड़के का परिचय देते हुये एक लड़की ने कहा कि "वह मेरे चाचा के पिता की बेटी का बेटा है", लड़की का उस लड़के से क्या संबंध है?  
 (A) चाचा (B) भाई  
 (C) बेटा (D) भतीजा [B]
48. दिये गये विकल्पों में से वह सही विकल्प ढूंढें जो श्रृंखला को पूरा करेगा।  
 श्रृंखला : 2, 5, 9, ?, 20, 27  
 (A) 24 (B) 16  
 (C) 18 (D) 14 [D]

49. निम्न आकार में कितने त्रिकोण हैं?



- (A) 12 (B) 10  
(C) 9 (D) 11 [A]

50. रघु और बाबू जुड़वा हैं। रीना का पति राजन है। बाबू की बहन रीना है। रघु की माँ लक्ष्मी है। लक्ष्मी का पति राजेश है, राजेश का राजन से क्या संबंध है?

- (A) ससुर (B) चाचा  
(C) दामाद (D) चचेरा भाई [A]

### भाग-ब/ Section-B

### शिक्षक अभिक्षमता एवं अभिवृत्ति / Teacher Aptitude and Attitude

51. शिक्षा में विद्यार्थी की सफलता मुख्य रूप से निर्भर करती है -

- (A) शिक्षा की गुणवत्ता पर (B) निजी शिक्षण पर  
(C) स्कूल में सुविधाएं (D) घर में सुविधाएं [A]

52. शिक्षक का मानसिक स्वास्थ्य अच्छा होना आवश्यक है, क्योंकि -

- (A) बालक की शैक्षिक प्रगति पर शिक्षक के मानसिक स्वास्थ्य का प्रभाव पड़ता है।  
(B) शिक्षक की व्यावसायिक उन्नति में सहायता मिलती है।  
(C) इससे शिक्षक की प्रतिष्ठा बढ़ती है।  
(D) शिक्षक में अपने व्यवसाय के प्रति रुझान पैदा होता है। [A]

53. छात्रों में आलोचनात्मक सोच कौशल को बढ़ावा देने के लिए क्या आवश्यक है?

- (A) याद रखने की क्षमता (B) रचनात्मकता  
(C) रट कर सीखना (D) सूचना की पुनरावृत्ति [B]

54. एक शिक्षक को बाल-मनोविज्ञान का ज्ञान होना चाहिए, जो सहायक है

- (A) शिक्षक को विद्यार्थियों के व्यवहार से परिचित होने में  
(B) शिक्षक को छात्रों की तुलना करने और पहचानने में  
(C) शिक्षण कार्य को सरल करने में  
(D) विद्यार्थियों की भावनाओं को समझने के लिए [A]

55. आपका अध्यापक बनने के पीछे प्रमुख उद्देश्य है -

- (A) ट्यूशन द्वारा अधिक धन प्राप्त करना  
(B) जीविकोपार्जन हेतु  
(C) समाज में अच्छे नागरिक तैयार करना  
(D) शिक्षण व्यवसाय से जुड़ना [C]

56. मैं उस अध्यापक की प्रशंसा करूंगा, जो -

- (A) जिसका अपने विद्यार्थियों पर कठोर नियंत्रण हो।  
(B) विद्यार्थियों की समस्याओं को जानता हो और सहायता करे।  
(C) विद्यार्थियों के साथ मित्रवत हो।  
(D) उसके पास मोहक व्यक्तित्व हो। [B]

57. जब आपको कोई उत्तरदायित्व दिया जाता है, तब

- (A) आप उत्तरदायित्व से दूर रहना चाहेंगे  
(B) आप उत्तरदायित्व को निभाने में आनन्द लेंगे  
(C) उत्तरदायित्व को अवसर के रूप में लेंगे  
(D) उत्तरदायित्व को स्वीकार कर लेंगे किन्तु देने वाले को भला-बुरा कहेंगे [B]

58. भारतीय ग्रामीण विद्यालयों की मुख्य समस्या है -

- (A) उचित संसाधनों का अभाव  
(B) अच्छे शिक्षकों की कमी  
(C) शिक्षा के प्रति जागरूकता की कमी  
(D) उपरोक्त सभी [D]

59. बालकों के माता-पिता शिक्षकों से क्या अपेक्षा रखते हैं?

- (A) शिक्षक निष्पक्ष एवं योग्य हों।  
(B) विषयवस्तु पर शिक्षक वर्चस्व हो।  
(C) बालकों के प्रति सहानुभूति, प्रेम तथा अभिप्रेरणात्मक अभिवृत्ति का प्रदर्शन करें।  
(D) बालकों को कड़े अनुशासन में रखें। [C]

60. अच्छी शिक्षा बहुत सहयोगी होती है-

- (A) व्यक्ति को आत्मनिर्भर बनाने में  
(B) मनुष्य को अपनी आजीविका प्राप्त करने में  
(C) मनुष्य को विद्वान बनाने में  
(D) मनुष्य की प्रतिष्ठा में अभिवृद्धि करने में [A]

61. विद्यालय स्तर पर शिक्षा का शैक्षणिक पक्ष किसके द्वारा नियंत्रित होता है?

- (A) विश्वविद्यालय अनुदान आयोग  
(B) राष्ट्रीय अध्यापक शिक्षा परिषद्  
(C) राष्ट्रीय शैक्षिक योजना एवं प्रशासन संस्थान  
(D) राष्ट्रीय शैक्षिक अनुसंधान एवं प्रशिक्षण परिषद् [D]

62. शिक्षा सर्वाधिक सहायक है -

- (A) बालक के सामाजिक विकास में  
(B) बालक के सर्वांगीण विकास में  
(C) बालक के मानसिक विकास में  
(D) पैसा कमाने में [B]

63. प्रधानाचार्य का अध्यापकों के प्रति व्यवहार होना चाहिए

- (A) अवसरवादी (B) प्रभावपूर्ण  
(C) निष्पक्ष (D) अनुशासनात्मक [C]

64. करके सीखना उपयोगी है, क्योंकि

- (A) विद्यार्थी स्वयं करके अधिक समझते हैं  
(B) इससे अनुशासन रहता है  
(C) विद्यार्थी क्रियाशील रहते हैं  
(D) इसमें समय अत्यधिक व्यय होता है [A]

65. कमजोर छात्रों के शैक्षिक स्तर को आप कैसे सुधारेंगे?

- (A) समय-समय पर अभिभावकों को सूचना देकर  
(B) उन्हें दण्ड देकर  
(C) उन्हें मार्गदर्शन प्रदान कर  
(D) उन्हें अतिरिक्त समय देकर एवं मार्गदर्शन प्रदान कर [D]

66. अभिभावक शिक्षक मीटिंग का मुख्य उद्देश्य है -

- (A) अभिभावकों से चंदा एकत्रित करना  
(B) उन्हें विद्यालय के कार्यक्रमों से अवगत कराना  
(C) बालकों के सर्वांगीण विकास में उनका सहयोग प्राप्त करना  
(D) बालकों की कमजोरियों की जानकारी देना [C]

67. एक दक्ष अध्यापक वह होता है, जो -

- (A) सभी विद्यार्थियों को परीक्षा उत्तीर्ण करने में मदद करना।  
(B) विद्यार्थियों में विषय के प्रति रुचि जाग्रत करना।  
(C) कक्षा कक्ष में शान्ति बनाए रखना।  
(D) विद्यार्थियों को व्यस्त करना। [B]

68. बालक के सामाजिक विकास का आधारभूत, अभिकरण है

- (A) विद्यालय (B) सिनेमाघर  
(C) समाज के लोग (D) परिवार के सदस्य [D]

69. प्रभावी शिक्षण सामग्री वह है, जो

- (A) रंग बिरंगी तथा आकर्षक हो  
(B) सभी ज्ञानेन्द्रियों को सक्रिय करती हो  
(C) सभी छात्रों को स्पष्ट दिखाई देती हो

- (D) महंगी हो [B]
70. आपके विद्यालय के छात्र दस दिवसीय भ्रमण पर जा रहे हैं। प्रधानाचार्य ने आपसे छात्रों के साथ जाने को कहा है। आपका इस सम्बन्ध में क्या मत है?  
(A) मेरा समय खराब होगा।  
(B) मुझे इससे नया ज्ञान प्राप्त होगा।  
(C) छात्रों के साथ आपसी सम्बन्ध बढ़ेंगे।  
(D) वहां पर बहुत मनोरंजन होगा। [C]
71. सामाजिक बुराइयों को दूर करने के लिए आप क्या करेंगे?  
(A) घर-घर जाकर लोगों को जागृत करेंगे  
(B) रैली का आयोजन करेंगे  
(C) पोस्टर बनाएं  
(D) कोई रुचि नहीं लेंगे [A]
72. नर्सरी विद्यालयों का प्राथमिक उद्देश्य है -  
(A) छात्रों को प्रायोगिक परिस्थितियों में रखना  
(B) विद्यालय की दिनचर्या के समायोजित करने का प्रशिक्षण देना साथ  
(C) उन्हें सामाजिक विकास हेतु तैयार करना  
(D) वर्तमान युग में व्यस्त माता-पिता के बालकों को घर जैसा वातावरण देना [C]
73. निम्नलिखित में से कौनसा विद्यार्थियों के साथ अन्तःक्रिया करने हेतु ज्यादा स्वतंत्रता देता है?  
(A) लघु समूह चर्चा  
(B) फिल्म का प्रयोग.  
(C) टी.वी. पर प्रदर्शित देशभर के कक्षा कक्ष कार्यक्रम  
(D) विशेषज्ञों के व्याख्यान [A]
74. प्राथमिक स्तर पर शिक्षा का माध्यम मातृभाषा होना चाहिए -  
(A). देशप्रेम की भावना विकसित करने के लिए  
(B) मातृभाषा के विकास के लिए  
(C) विद्यार्थियों को पाठ्यवस्तु समझने में सुविधा के लिए  
(D) अध्यापन कार्य को सरल बनाने के लिए [C]
75. यदि एक विद्यार्थी आपकी कक्षा में अनुपस्थित रहता है, तो एक अध्यापक के रूप में आप क्या करेंगे?  
(A) विद्यार्थी को उसकी अनुपस्थिति के लिये दोषी ठहराएंगे।  
(B) विद्यार्थी की वर्तमान अभिवृत्ति को देखते हुए चुप रहेंगे।  
(C) पढ़ाने के लिए कुछ रुचिकर विधियों के बारे में सोचेंगे।  
(D) कारणों को जानने तथा उन्हें दूर करने का प्रयास करेंगे। [D]
76. विद्यार्थी अध्ययन में रुचि लें इसके लिये अध्यापक विद्यार्थियों को  
(A) अभिप्रेरित करें  
(B) छात्रों को स्वयं पुस्तक पढ़ने के लिए निर्देशित करें  
(C) पुरस्कृत करें  
(D) दण्डित करें [A]
77. छात्रों में परिश्रम के महत्त्व की भावना को विकसित करने हेतु आप क्या करेंगे?  
(A) छात्रों को 'श्रमदान' की अनुमति देंगे  
(B) स्वयं छात्रों के साथ 'श्रमदान' करेंगे  
(C) परिश्रम के महत्त्व की कहानियां सुनाएंगे  
(D) धार्मिक कहानियां सुनाएंगे [B]
78. यदि विद्यार्थी आपकी कक्षा में अनुपस्थित रहते हैं, तो आप सर्वप्रथम क्या करेंगे?  
(A) परिस्थितियों को देखते हुए चुप रहेंगे।  
(B) प्रधानाध्यापक एवं अभिभावकों को सूचित करेंगे।  
(C) कुछ रुचिकर शिक्षण विधियों के प्रयोग के बारे में सोचेंगे।  
(D) कारणों को जानेंगे और उन्हें दूर करने का प्रयास करेंगे। [D]
79. अध्यापक द्वारा अपने विचार विद्यार्थियों तक पहुँचाने में असफल रहने का परिणाम होगा कि -  
(A) कक्षा में अनुशासनहीनता।  
(B) पढ़ाए जा रहे प्रकरण में विद्यार्थियों की रुचि में कमी।  
(C) कक्षा में अनुपस्थिति की संख्या बढ़ना।
- (D) अधिगम में विद्यार्थियों की कमजोर रुचि। [D]
80. आई.सी.टी. (I.C.T.) प्रतिनिधित्व करता है -  
(A) इंटरनेशनल कम्प्यूनिकेशन टेक्नोलॉजी  
(B) इन्ट्रा कॉमन टर्मिनोलॉजी  
(C) इन्टर कनेक्टेड टर्मिनल  
(D) इन्फॉर्मेशन और कम्प्यूनिकेशन टेक्नोलॉजी [D]
81. रचनात्मक मूल्यांकन का प्राथमिक लक्ष्य क्या है?  
(A) ग्रेड आवंटित करने के लिए  
(B) विद्यार्थियों के सीखने का मूल्यांकन करना  
(C) सुधार के लिए प्रतिपुष्टि प्रदान करना  
(D) अंतिम उपलब्धि को मापने के लिए [B]
82. अध्यापक और छात्रों में अच्छे सम्बन्ध होना आवश्यक हैं, क्योंकि-  
(A) इससे कक्षा में अनुशासन रहता है।  
(B) इससे सीखने-सिखाने में सहयोग मिलता है।  
(C) कक्षा का वातावरण अच्छा रहता है।  
(D) अध्यापक को बहुत सारे ट्यूशन मिलते हैं। [B]
83. बच्चों के समग्र विकास के लिये सबसे अधिक आवश्यक तथ्य है-  
(A) धार्मिक शिक्षा (B) सांस्कृतिक कार्यक्रम  
(C) सांस्कृतिक ज्ञान (D) खेल एवं खेलकूद [D]
84. पहला किडरगार्टन किसके द्वारा शुरू किया गया था?  
(A) विलियम जेम्स (B) बैजामिन फ्रेंकलिन  
(C) फ्रेडरिक विल्हेम फ्रोबेल (D) जोहान पेस्टालोजी [C]
85. "ऑडियो कॉन्फ्रेंसिंग" को किस प्रकार की संचार विधि में वर्गीकृत किया जा सकता है?  
(A) एक तरफा मौखिक (B) दो तरफा मौखिक  
(C) एक तरफा अमौखिक (D) दो तरफा अमौखिक [B]
86. पाठ्येत्तर संबन्धी कार्यक्रमों के विषय में आपकी क्या राय है?  
(A) आत्म-विश्वास को बढ़ाता है।  
(B) खाली समय का उपयोग है।  
(C) यह समय की बर्बादी है।  
(D) यह चहुमुखी विकास के लिए आवश्यक है। [D]
87. सामाजिक रूप से परिपक्व शिक्षक की प्रमुख विशेषता क्या है?  
(A) वे सहकर्मियों के साथ सहयोग करने से बचते हैं।  
(B) वे छात्रों और सहकर्मियों के प्रति परानुभूति और समझ प्रदर्शित करते हैं।  
(C) वे पेशेवर रिश्तों पर अपने व्यक्तिगत हित को प्राथमिकता देते हैं।  
(D) उनमें भावनात्मक बुद्धिमत्ता की कमी प्रदर्शित होती है। [B]
88. यदि छात्र आपकी बात नहीं समझ रहे हैं, तो आप क्या करेंगे?  
(A) उन्हें उनके हाल पर छोड़ देंगे।  
(B) आप छात्रों पर दोषारोपण करेंगे।  
(C) उन्हें अन्य विधि से समझाने का प्रयास करेंगे।  
(D) उदाहरणों द्वारा शिक्षण को सरल बनाने का प्रयास करेंगे। [C]
89. एक अध्यापक होने के नाते आपके अनुसार राष्ट्र के विकास में बड़ी रुकावट है-  
(A) जनसंख्या वृद्धि (B) निरक्षरता  
(C) राजनैतिक हस्तक्षेप (D) प्रदूषण [B]
90. शिक्षण सहायक सामग्री का उपयोग  
(A) एकाग्रता व अधिगम को बढ़ावा देता है।  
(B) धारण शक्ति को बढ़ाता है।  
(C) अध्यापक का बोझ कम करता है।  
(D) कक्षा कक्ष को सुन्दर बनाता है। [A]
91. कक्षा में संप्रेषण का महत्त्व है, क्योंकि  
(A) यह कक्षा के वातावरण को सक्रिय बनाता है।  
(B) इसमें मात्र बातें होती हैं।  
(C) इसमें विचारों और सूचनाओं का आदान-प्रदान होता है।

(D) यह अध्यापक और छात्र दोनों को प्रतिपृष्टि देता है। [D]

**लक्ष्य क्लासेज**  
उदापुर

मॉडल टेस्ट पेपर्स की प्रमुख विशेषताएं  
- नि:शुल्क होम डिलीवरी  
- 10 OMR टोटल सहित  
- नवीनतम परीक्षा पैटर्न पर आधारित  
- प्रत्येक प्रश्न पत्र की उत्तर सहित व्याख्या

लक्ष्य क्लासेज के एप्लीकेशन एवं यूट्यूब चैनल पर उपलब्ध  
आपके नजदीकी बुक स्टोर पर भी उपलब्ध

₹ 599  
₹ 169

92. विद्यार्थी एक ऐसे अध्यापक से ज्यादा सीखते हैं जो

- (A) सहानुभूतिपूर्ण हो  
(B) कठोर हो  
(C) कठिन परिश्रमी हो  
(D) जो अपने विचार संक्षेप में और स्पष्ट रूप से संप्रेषित करता हो [D]

93. अध्यापक के सम्मुख सबसे बड़ी चुनौती है-

- (A) कक्षा में अनुशासन को बनाए रखना।  
(B) विद्यार्थियों को गृहकार्य करवाने हेतु तैयार करना।  
(C) प्रश्न पत्र निर्माण करना।  
(D) शिक्षण अधिगम प्रक्रिया को खुशनुमा बनाना। [D]

94. समूह मनोबल के लिये सर्वाधिक आवश्यक है -

- (A) स्पष्ट उद्देश्य (B) समूह एकता  
(C) समूह सदस्यों की सम्पन्नता (D) समूह दृढ़ता [A]

95. गृहकार्य जरूरी है

- (A) यह छात्रों को घर पर पढ़ाई करने में मदद करता है।  
(B) स्वाध्याय का विकास करना।  
(C) विद्यार्थी की समझ का विश्लेषण करना।  
(D) लेखन कौशल विकसित करने के लिए। [B]

96. शिक्षण में पारस्परिक संबंधों का योगदान होता है-

- (A) प्रतिकूल शिक्षण वातावरण बनाना  
(B) छात्र प्रेरणा और सहभागिता को बढ़ाना  
(C) छात्र भागीदारी को सीमित करना  
(D) छात्रों के बीच प्रतिस्पर्धा को प्रोत्साहित करना [B]

97. आपके विचार में शिक्षण का पेशा है-

- (A) आरामदायक (B) सम्मानित  
(C) अच्छा वेतन (D) निराशाजनक [B]

98. शिक्षा तथा सामाजिक आर्थिक विकास है -

- (A) प्रत्यक्षतः समानुपातिक रूप से सम्बन्धित  
(B) अप्रत्यक्षतः समानुपातिक सम्बन्धित रूप से  
(C) कभी सम्बन्धित कभी सम्बन्धित नहीं  
(D) सम्बन्धित नहीं [A]

99. शिक्षण में प्रभावी पारस्परिक सम्बन्धों के लिए शिक्षक की आवश्यकता होती है, कि वह

- (A) छात्रों की व्यक्तिगत जरूरतों को नजरअंदाज करें।  
(B) डर के माध्यम से अधिकार को थोपना।  
(C) छात्रों की राय और भावनाओं का सम्मान करें।  
(D) छात्रों के साथ प्रदर्शन सम्बन्ध बनाए रखें। [C]

100. एक छात्र जल्दी सीखता है, जबकि दूसरे छात्र को सीखने में अधिक समय लगता है, यह सिद्धान्त दर्शाता है

- (A) सामान्य से विशिष्ट तक (B) व्यक्तिगत विभिन्नताएं  
(C) निरंतरता (D) अंतसंबंध [B]

भाग-स/Section-C  
सामान्य जागरूकता / General Awareness

101. 'गुलामगिरी: पुस्तक किसने लिखी?

- (A) ज्योतिबा फुले (B) बी.आर. अंबेडकर  
(C) नारायण गुरु (D) हरिदास ठाकुर [A]

102. निम्नलिखित में से कौनसी गैस ओजोन क्षरण के लिये प्रत्यक्षतः उत्तरदायी नहीं है?

- (A) क्लोरो-फ्लोरो कार्बन (B) कार्बन डाईऑक्साइड  
(C) नाइट्रस ऑक्साइड (D) हाइड्रो-कार्बन [B]

103. 'एक राष्ट्र एक चुनाव' के लिये गठित समिति का गठन किन की अध्यक्षता में किया गया है?

- (A) रामनाथ कोविन्द (B) संजय निरुपम  
(C) अर्जुनराम मेघवाल (D) आर.एस. शर्मा [A]

104. पुरास्थल 'आहड़' से प्राप्त प्राचीन अवशेष संबंधित हैं -

- (A) कांस्य युग से (B) लौह युग से  
(C) ताम्र पाषाण युग से (D) पुरा पाषाण युग से [C]

105. गिद्धा लोक नृत्य है -

- (A) महाराष्ट्र (B) केरल  
(C) पंजाब (D) गुजरात [C]

106. कौनसी नदी यमुना की सहायक नदी नहीं है?

- (A) बाणगंगा (B) बेडच  
(C) बनास (D) कौतली [D]

107. विश्व में धागा उत्पादन में भारत का स्थान है-

- (A) 1 (B) 2  
(C) 3 (D) 4 [B]

108. निम्न में से किसे टोडगढ़ किले में चार साल के लिये कारावास की सजा दी गयी थी?

- (A) राव गोपाल सिंह खारवा (B) प्रताप सिंह बारहठ  
(C) सागरमल गोपा (D) दौलतमल भंडारी [A]

109. मेवाड़ के कौनसे शासक द्वारा संगीत राज, सूद प्रबन्ध, संगीत रत्नाकर, रसिक प्रिया की रचना की गयी?

- (A) राणा कुंभा (B) राणा सांगा  
(C) राणा उदयसिंह (D) राज सिंह [A]

110. निम्न में से कौनसा रोग राजस्थान के कानूनों के अन्तर्गत अधिसूचित रोग है?

- (A) न्यूमोकोनियोसिस (B) कोविड  
(C) कैसर (D) डिप्थीरिया [B]

111. गोविन्द गिरि का प्रमुख शिष्य कौन था?

- (A) पुजा धीरजी (B) मोतीलाल तेजावत  
(C) ठाकरी पटेल (D) तेजा धीरजी [A]

112. लगातार चौथी बार बांग्लादेश के प्रधानमंत्री के रूप में किसे चुना गया?

- (A) मोहम्मद शहाबुद्दीन (B) शेख हसीना  
(C) नवाज शरीफ (D) मोहम्मद आसिफ [B]

113. निम्नलिखित आन्दोलनों को आरोही कालक्रम के अनुसार जमायें -

- (1) होमरूल आन्दोलन (2) सविनय अवज्ञा आन्दोलन  
(3) खिलाफत आन्दोलन (4) भारत छोड़ो आन्दोलन  
कूट-

- (A) 3, 1, 2, 4 (B) 2, 1, 3, 4  
(C) 1, 2, 3, 4 (D) 1, 3, 2, 4 [D]

114. किस शिल्पी के नेतृत्व में रणकपुर मंदिर का निर्माण हुआ?

- (A) हरवन्स (B) दीपक  
(C) मुकुंद (D) दयाल [B]

115. गवरी देवी राजस्थान की किस गायन शैली से जुड़ी है?

- (A) लंगा (B) माँगणियार  
(C) माँड (D) तालबंदी [C]
116. नोबेल पुरस्कार विजेता सी.वी. रमन किस क्षेत्र से जुड़े थे?  
(A) भौतिक शास्त्र (B) रसायन शास्त्र  
(C), गणित (D) साहित्य [A]
117. मुनरो व्यवस्था का दूसरा / अन्य नाम क्या है?  
(A) रैयतवाड़ी (B) महलवाड़ी  
(C) स्थायी बंदोबस्त (D) ज़मींदारी [A]
118. अंग्रेजों के साथ संधि करने वाला पहला राज्य था  
(A) कोटा (B) बूंदी  
(C) मेवाड़ (D) जयपुर [A]
119. 54वें भारतीय अन्तर्राष्ट्रीय फिल्म महोत्सव (IFFI) में किस फिल्म को सर्वश्रेष्ठ फिल्म गोल्डन पीकॉक पुरस्कार मिला?  
(A) फेदरवेट (B) एंडलेस बॉर्डर्स  
(C) व्हेन द सीडलिंग्स ग्रो (D) द पार्टी ऑफ फूल्स [B]
120. दांडी से गांधीजी ने किस आन्दोलन की शुरुआत की थी?  
(A) सत्याग्रह (B) सविनय अवज्ञा आन्दोलन  
(C) भारत छोड़ो (D) असहयोग [B]
121. अरेबिका, रोबस्टा, लिबरिका की किस्में हैं  
(A) मूँगफली (B) काजू  
(C) कॉफी (D) चाय [C]
122. 2011 की जनगणना के अनुसार, राजस्थान में अनुसूचित जनजातियों का प्रतिशत है-  
(A) 13.5 (B) 12.4  
(C) 16.8 (D) 17.4 [A]
123. 'वीर विनोद' पुस्तक (एक काव्य ग्रन्थ) के लेखक कौन है?  
(A) चंद बरदाई (B) मंडन  
(C) श्यामल दास (D) आचार्य सोमदेव [C]
124. लेख "मैं नास्तिक क्यों हूँ" लिखा गया है  
(A) रास बिहारी बोस द्वारा (B) भगत सिंह द्वारा  
(C) सुभाषचन्द्र बोस द्वारा (D) चन्द्रशेखर आजाद द्वारा [B]
125. संयुक्त राष्ट्र संघ मानव विकास सूचकांक, 2022 में भारत को किस पायदान पर बतलाया गया है?  
(A) 138 (B) 134  
(C) 122 (D) 149 [B]
126. निम्न में से किसे सुनहरे रेशे के नाम से जाना जाता है?  
(A) कपास (B) चाय  
(C) कॉफी (D) जूट [D]
127. QUAD के सदस्य देश कौन-कौन से हैं?  
(A) भारत, ऑस्ट्रेलिया, जापान, संयुक्त राज्य अमेरिका  
(B) भारत, कनाडा, जापान, संयुक्त राज्य अमेरिका  
(C) भारत, कनाडा, युनाइटेड किंगडम, संयुक्त राज्य अमेरिका  
(D) भारत, किंगडम कनाडा, जापान, युनाइटेड [A]
128. "आसियान भारत मिलेट फेस्टिवल, 2023" का मेजबान कौनसा देश था?  
(A) म्यांमार (B) लाओस  
(C) वियतनाम (D) इंडोनेशिया [D]
129. राजस्थान का पहला भालू अभ्यारण्य है -  
(A) ताल छापर (B) कनक सागर  
(C) बंध बारेठा (D) सुधा माता [D]
130. 'वन नेशन, वन स्टूडेंट आई.डी.', जो प्रत्येक छात्र को दी जायगी, उसका नाम क्या है?  
(A) क्रेडिट आई.डी.  
(B) अपार (APAAR) आई.डी.  
(C) अपना (APANA) आई.डी.  
(D) परमानेंट स्टूडेंट आई.डी. [B]
131. आर.बी.आई. का स्थापना दिवस है

- (A) 1 अप्रैल (B) 30 जनवरी  
(C) 14 अप्रैल (D) 26 नवम्बर [A]
132. हाल ही में उद्घाटित होने वाला 'अटल सेतु' कहाँ पर स्थित है?  
(A) रामेश्वरम (B) कोलकता  
(C) पुरी (D) मुम्बई [D]



- मॉडल टेस्ट पेपर्स की प्रमुख विशेषताएं  
- निःशुल्क होम डिलीवरी  
- 10 OMR शीट्स सहित  
- नवीनतम परीक्षा पैटर्न पर आधारित  
- प्रत्येक प्रश्न पत्र की उत्तर सहित व्याख्या
- लक्ष्य क्लासेज के एप्लीकेशन एवं यूट्यूब चैनल पर उपलब्ध  
आपके नज़दीकी बुक स्टोर्स पर भी उपलब्ध
133. हाल ही में किस देश ने अपना दशकों का तटस्थता रूख / रवैया छोड़कर NATO की सदस्यता ले ली?  
(B) फिनलैण्ड (A) डेनमार्क  
(D) नीदरलैण्ड (C) स्वीडन [C]
134. भारत के किस राज्य में सबसे अधिक वन क्षेत्र है?  
(A) मध्य प्रदेश (B) उत्तर प्रदेश  
(C) राजस्थान (D) केरल [A]
135. राजस्थान के किस जिले में 'जरगा पर्वत' है?  
(A) सिरोही (B) उदयपुर  
(C) अलवर (D) जयपुर [B]
136. जनवरी, 2024 में भारतीय वायुसेना के साथ 'अभ्यास डेज़र्ट नाइट' में किन देशों ने भाग लिया?  
(A) फ्रांस और संयुक्त राज्य अमेरिका  
(B) फ्रांस और संयुक्त अरब अमीरात  
(C) संयुक्त राज्य अमेरिका और संयुक्त अरब अमीरात  
(D) फ्रांस और चीन [B]
137. राजस्थान में बहने वाली सबसे लम्बी नदी है  
(A) माही (B) चम्बल  
(C) लूनी (D) बनास [B]
138. जवाहरलाल नेहरू बंदरगाह किसका उपग्रह बंदरगाह है?  
(A) मारमागाओ बंदरगाह (B) कांडला बंदरगाह  
(C) मुम्बई बंदरगाह (D) न्यू मैंगलोर बंदरगाह [C]
139. चौथी एशिआई पैरा खेल - 2022 (अक्टूबर, 2023) का आयोजन चीन के किस शहर में किया गया?  
(A) बीजिंग (B) हॉंगझोऊ  
(C) शंघाई (D) जिआन [B]
140. कुनमिंग मोनट्रियल फ्रेमवर्क सम्बन्धित है-  
(A) जैव-विविधता से (B) जलवायु परिवर्तन से  
(C) व्हेल्स के संवरक्षण से (D) जंगलों के संवरक्षण से [A]
141. भारत का बिस्मार्क किसे कहा जाता है?  
(A) जे.एल. नेहरू (B) बी.आर. अम्बेडकर  
(C) राजेन्द्र प्रसाद (D) सरदार पटेल [D]
142. राष्ट्रीय खेल 2023 में सर्वश्रेष्ठ पुरुष एथलीट की ट्रॉफी किसे प्राप्त हुई?  
(A) एंसी सोजन (B) ऐश्वर्य प्रताप सिंह तोमर  
(C) संयुक्ता काले (D) श्रीहरि नटराज [D]
143. जातक कथाएँ किस महान व्यक्तित्व से सम्बन्धित हैं?  
(A) महावीर (B) गौतम बुद्ध  
(C) शंकराचार्य (D) विष्णु [B]
144. भारत के किस राज्य का टिन अयस्क के क्षेत्र में एकाधिकार है?

- (A) बिहार (B) छत्तीसगढ़  
(C) मणिपुर (D) उत्तराखण्ड [B]
145. विद्युत प्रवाह की इकाई क्या है?  
(A) कैलविन (B) एम्पीयर  
(C) वॉट (D) मोल [B]
146. निम्न में से कौनसी ग्रीन हाउस गैस (GH6) है?  
(A) CO<sub>2</sub> (B) CH<sub>4</sub>  
(C) जलवाष्प (D) उपरोक्त सभी [D]
147. सौर ऊर्जा को बढ़ावा देने के लिये भारत सरकार द्वारा कौनसी योजना आरम्भ की गई?  
(A) पी.एम. - सूर्य घर (B) पी.एम. - हर घर सूर्य  
(C) पी.एम. - भास्कर घर (D) पी.एम. - हर घर सवेरा [A]
148. हाल ही का कानून जिसका संबंध रहन-सहन और व्यापार करने की सुगमता के लिये विश्वास आधारित शासन से है -  
(A) जन विश्वास (B) जन आधार  
(C) लोकपाल (D) जन शक्ति [D]
149. चन्द्रगुप्त मौर्य कब शासक बने?  
(A) 380 ई.पू. (B) 410 ई.पू.  
(C) 321 ई.पू. (D) 434 ई.पू. [C]
150. राजा अजमल किस लोक देवता के पिता थे?  
(A) राम देवजी (B) पाबूजी  
(C) देव नारायणजी (D) तेजाजी [A]

### भाग-द / Section-D अंग्रेजी / English

151. The synonym of 'Baffle' is -  
(A) Bewilder (B) Cheerful  
(C) Attribute (D) Price [A]
152. The teacher said, "The mice will play, when the cat is away".  
(A) The teacher said that the mice shall play after the cat is away.  
(B) The teacher said that the mice will play, when the cat is away.  
(C) The teacher said the mice would be playing when the cat was away.  
(D) The teacher said that the mice would play when the cat would be away. [D]
153. I need ..... information.  
(A) a (B) some  
(C) a few (D) many [B]
154. Explain the meaning of idiom 'Once in a Blue Moon'.  
(A) to do it very rarely (B) to be on the top of sky  
(C) to love someone deeply  
(D) to hate someone [A]
155. Select the option that will mean 'Chief when suffix 'er' is added to it -  
(A) feeder (B) leader  
(C) creeder (D) needer [B]
156. A piece of cake' means -  
(A) An easy task (B) A complicated issue  
(C) A tasty dessert (D) A big surprise [A]
157. Choose the sentence that correctly uses the determiner "little" -  
(A) He drank little water after the exercise.  
(B) He drank water little after the exercise.  
(C) He drank a little water after the exercise.

- (D) He little drank water after the exercise. [A]

लक्ष्य  
कक्षाएं शुरू

## CET 12th Level

बेहतरीन कंटेंट युक्त लक्ष्य  
क्लासेज द्वारा प्रकाशित बुक सेट

**BUY NOW**  
₹1499  
₹999

Register Now **6376491126** GET IT ON Google play Download on the App Store

158. It has been raining ..... morning.  
(A) since (B) from  
(C) with (D) by [A]
159. Which of the following is a Compound Sentence?  
(A) I like to read books.  
(B) The flowers bloomed in the garden.  
(C) He went to the store and bought some groceries.  
(D) She enjoys swimming and hiking. [C]
160. The tiger runs ..... of all animals.  
(A) fastest (B) fast  
(C) faster (D) fasted [A]
161. Identify the kind of sentence -  
'The boy was pleased at winning the prize.'  
(A) Simple (B) Complex  
(C) Compound (D) Both (B) and (C) [A]
162. He has lived in that house ..... several years.  
(A) since (B) from  
(C) for (D) during [C]
163. Add suffix to the word 'sad'.  
(A) -ism (B) -ment  
(C) -ness (D) -fully [C]
164. Choose the synonym of 'Brave' -  
(A) Courageous (B) Fearless  
(C) Cowardly (D) Timid [A]
165. Which modal verb is used to express possibility/probability?  
(A) Can (B) Shall  
(C) Will (D) Might [D]
166. They formed ..... union.  
(A) zero article (B) an  
(C) a (D) the [C]
167. Select the prefix in 'fused' so that it becomes synonym to 'bewildered'.  
(A) -be (B) -sur



- (C) -con (D) -to [C]
168. I gave him..... money.  
(A) a few (B) few  
(C) some (D) a [C]
169. Identify the proper sequence of jumbled sentence-  
(P) please (Q) the grass  
(R) step on (S) do not  
(A) PSRQ (B) QPSR  
(C) SPQR (D) RQSP [A]
170. Find out the meaning of the phrase 'see eye to eye'.  
(A) Showing eye  
(B) Getting angry  
(C) To agree with someone  
(D) Disagree [C]
171. Delhi is cleaner than ..... city in Bihar.  
(A) few (B) any  
(C) least (D) good [B]
172. Which suffix can be added to the word 'develop' to make it a Noun?  
(A) -ing (B) - ed  
(C) -ness (D) - ment [D]
173. Fill in the blank -  
The boy jumped ..... the roof.  
(A) in (B) to  
(C) from (D) of [C]
174. If it is not closed, it is .....  
(A) less (B) success  
(C) open (D) fly [C]
175. Select the prefix ..... in 'guile' so that it becomes synonym to 'deceive'.  
(A) - sur (B) - be  
(C) - con (D) - de [B]
176. Which prefix can be added before 'understanding'?  
(A) - mis (B) - un  
(C) - de (D) - multi [A]
177. Identify the proper sequence of the jumbled sentence -  
(P) to be (Q) wants  
(R) my brother (S) a teacher  
(A) SQPR (B) PSQR  
(C) QRPS (D) RQPS [D]
178. Find out the antonym of the word 'Destroy'.  
(A) Annoy (B) Create  
(C) Replicate (D) Finish [B]
179. Identify the sentence pattern in-  
'She read books.'  
(A) Subject + Verb  
(B) Subject + Verb + Object  
(C) Subject + Verb + Adjective  
(D) Subject + Verb + Adverb [B]
180. Which word means 'a sudden, violent and illegal seizure of power from a government'?  
(A) Rebellion (B) Revolution  
(C) Coup (D) Uprising [C]
181. Select the correctly spelt word -  
(A) Tariff (B) Tarrif
- (C) Tareif (D) Tarife [A]
182. Choose the word that is spelt correctly-  
(A) Neccessary (B) Necessary  
(C) Necessary (D) Necessery [C]
183. Which sentence has correct subject and verb concord?  
(A) She walk to school everyday.  
(B) He play soccer with his friends.  
(C) The children enjoys playing in the dark.  
(D) They are studying for their exams. [D]
184. Which sentence has used Article correctly?  
(A) A cat is on the roof.  
(B) An cat is on the roof.  
(C) The cat is on the roof.  
(D) Cat is on the roof. [C]
185. "The cat chased the mouse." can be changed to Passive Voice as -  
(A) The mouse was chased by the cat.  
(B) The mouse has been chased by the cat.  
(C) The mouse is being chased by the cat.  
(D) The mouse chased the cat. [A]
186. Identify the kind of sentence-  
We desire to reap therefore we sow."  
(A) Simple (B) Complex  
(C) Compound (D) Both (B) and (C) [B]
187. Fill in the blank -  
She is ..... intelligent student.  
(A) a (B) an  
(C) the (D) be [B]
188. Fill in the correct verb -  
They ..... to the party last night.  
(A) go (B) goes  
(C) went (D) going [C]
189. Select the option closest in meaning to the word 'Abundant'-  
(A) Heavy (B) Bountiful  
(C) Precious (D) Popular [B]
190. The role of zoo is to preserve ..... animals.  
(A) rare (B) extinct  
(C) common (D) dead [C]
191. Arrange the sentence in correct sequence -  
(P) for I have (Q) run out of milk  
(R) to the shop (S) I am going  
(A) PQRS (B) SRQP  
(C) SRPQ (D) RSQP [C]
192. Mark the odd one out-  
(A) Humble (B) Rude  
(C) Harsh (D) Impolite [A]
193. Choose the sentence with correct subject and verb concord -  
(A) The dog barks loudly every night.  
(B) The dog bark loudly yesterday.  
(C) The dogs barks loudly everyday.  
(D) The dogs barked loudly tomorrow. [A]
194. Which of the following is a Simple Sentence?  
(A) She cooked dinner and cleaned the house.  
(B) The cat sat on the mat.  
(C) Although it rained we still went for a walk.

- (D) He studied hard for the exams but he still failed. [B]
195. "He is a man of his, words" means -  
(A) Trustworthy (B) Dependable  
(C) Reliable (D) All of the above [D]
196. Choose the correct option  
I ..... swim when I was a boy.  
(A) could (B) should  
(C) may (D) must [A]
197. If it is not a beginning, it is an .....  
(A) end (B) success  
(C) fail (D) less [A]
198. What is the synonym of 'Appreciate'?  
(A) Depreciate (B) Require  
(C) Value (D) Auspicious [C]
199. We see ..... moon at night.  
(A) zero article (B) an  
(C) a (D) the [D]
200. He cannot swim ..... he can play tennis.  
(A) neither (B) both  
(C) either (D) but [D]

**भाग-द/Section-D**  
**हिन्दी/Hindi**

151. निम्नलिखित में से तद्भव शब्द नहीं है -  
(A) घी (B) काम  
(C) सूरज (D) गृह [D]
152. 'रश्मि' और 'कर' निम्नलिखित में किसके पर्यायवाची हैं?  
(A) किरण (B) चंद्र  
(C) इच्छा (D) सरिता [A]
153. निम्नलिखित में से किस विकल्प के सभी शब्द शुद्ध हैं?  
(A) हिंदू, उपर (B) गुरु, आयु  
(C) भाषाएँ, सैना (D) ऐतिहासिक, चाहिये [B]
154. निम्नलिखित में से अशुद्ध विकल्प है -  
(A) प्रत्यक्ष - आँखों से परे  
(C) द्रष्टव्य - देखने योग्य  
(B) पराधीन - जो पर के अधीन है  
(D) विश्वस्त - जिस पर विश्वास किया गया है [A]
155. निम्नलिखित में से दीर्घ स्वर नहीं है -  
(A) आ (B) ऋ  
(C) ई (D) ऐ [B]
156. निम्नलिखित में से तत्सम शब्द है -  
(A) सूर्य (B) आग  
(C) दही (D) हाथ [A]
157. निम्नलिखित में से किस विकल्प में व्यक्तिवाचक संज्ञाएँ हैं?  
(A) कमरा, कागज (B) गंगा, ताजमहल  
(C) खुशी, पूजा (D) व्यापार, अपमान [B]
158. 'कष्ट पर कष्ट आना के लिये उपयुक्त है -  
(A) घर का भेदी लंका ढाए (B) कंगाली में आटा गीला  
(C) घर फूँक तमाशा देखना (D) नाच ना जाने आँगन टेढ़ा [B]
159. निम्नलिखित में से भाववाचक संज्ञा नहीं है -  
(A) गरमी (B) हाथ  
(C) मुक्ति (D) उत्साह [B]
160. निम्नलिखित में से किस विकल्प में सभी शब्द शुद्ध हैं?  
(A) उँचाई, उन्नति (B) कवयित्री, गृहस्थ  
(C) ईर्ष्या, वृज (D) ब्राह्मण, विधि [D]
161. निम्नलिखित में से 'अ' उपसर्ग से बना शब्द है -  
(A) अनुरूप (B) अधर्म  
(C) अपयश (D) अवगुण [B]
162. 'धीरे-धीरे' निम्नलिखित में से क्या है?  
(A) क्रिया (B) क्रिया विशेषण  
(C) संज्ञा (D) सर्वनाम [B]
163. निम्नलिखित में से किस विकल्प में सभी शब्द भवन के पर्यायवाची हैं?  
(A) घर, निकेतन, प्रभा (B) सदन, प्रभा, सरोज  
(C) आवास, निलय, गृह (D) आगार, धाम, अमृत [C]
164. निम्नलिखित में से स्त्रीलिंग शब्द नहीं है -  
(A) दया (B) न्याय  
(C) माया (D) कृपा [B]
165. 'धरती में गड जाना' का अर्थ है -  
(A) लज्जित होना (B) मन अशांत होना  
(C) हार जाना (D) उदास हो जाना [A]
166. निम्नलिखित में से किसमें स्वर संधि है?  
(A) यद्यपि (B) सद्गानी  
(C) उल्लास (D) दिग्गज [A]
167. निम्न में से कौनसा विकल्प अशुद्ध है?  
(A) अपनी करनी उतरनी - अवसर निकल जाने पर पछताना व्यर्थ है  
(B) घर फूँक तमाशा देखना - अपनी हैसियत से बढ़कर खर्च करना  
(C) छोटे मुँह बड़ी बात - अपनी हैसियत से बढ़कर बात करना  
(D) साँच को आँच नहीं - सच्चे आदमी को कोई डर नहीं [A]
168. 'सूखा' और 'हरा' निम्नलिखित में से कौनसा विशेषण है?  
(A) गुणवाचक (B) संख्यावाचक  
(C) परिमाणबोधक (D) सार्वभौमिक [A]
169. 'मैं' और 'हम' निम्नलिखित में से कौनसा पुरुष है?  
(A) मध्यमपुरुष (B) उत्तमपुरुष  
(C) अन्यपुरुष (D) परपुरुष [B]
170. निम्नलिखित में से किस पद में कर्मधारय समास है?  
(A) नीलकमल (B) त्रिभुवन  
(C) आमरण (D) भाई-बहन [A]
- (प्रश्न सं. 171 से 175) निम्नलिखित गद्यांश को पढ़कर प्रश्नों के उत्तर दीजिए -  
भारत में कथा आख्यान की परम्परा बहुत समृद्ध और प्राचीन है। भारतीय कविता और इतिहास का भी इस परम्परा के साथ गहरा और निरंतर सम्बन्ध रहा है। अपने समय की सांस्कृतिक, धार्मिक और ऐतिहासिक जरूरतों के तहत इसमें कई फेरबदल हुए, लेकिन 'चित्त विनोद' से इनका नाता हमेशा बना रहा। उपदेश की सीमा तक बदल जाने के बावजूद भी इनमें रोचकता हमेशा बनी रही। वेदों में कथा आख्यानों के बीज रूपों के बाद में सदियों तक भारतीय साहित्य में विस्तार और पल्लवन होता रहा। बाद में यह परम्परा महाभारत, रामायण आदि के रूप में स्वतंत्र रूप में विकसित हुई।
171. उपर्युक्त गद्यांश में प्रयुक्त 'चित्त विनोद' का क्या अर्थ है?  
(A) लोक कल्याण (B) मनोरंजन  
(C) आदर्श का अनुकरण (D) उपदेश [A]
172. वेदों में कथा आख्यान किस रूप में मिलते हैं?  
(A) प्रबंध और चरित्र (B) महाकाव्य और नाटक  
(C) नाराशंसी और गाथा (D) इतिहास और वंशावली [B]
173. उपर्युक्त गद्यांश का सर्वाधिक उपयुक्त शीर्षक है  
(A) भारतीय कथा आख्यान की परम्परा  
(B) रामायण और महाभारत  
(C) चित्त विनोद  
(D) वेदों में कथा आख्यान [A]
174. भारतीय कथा आख्यान परंपरा निम्नलिखित में से किससे सम्बन्धित नहीं है?

- (A) ज्योतिष (B) नाराशंसी  
(C) रामायण (D) महाभारत [A]
175. भारतीय कथा आख्यान परम्परा में समय-समय पर कुछ परिवर्तन का क्या कारण था?  
(A) विदेशी प्रभाव के कारण  
(B) सांस्कृतिक-धार्मिक और ऐतिहासिक जरूरतें  
(C) परम्परा के निर्वाह के लिए  
(D) शासकों की रुचि के कारण [B]
176. निम्नलिखित में से किस शब्द का प्रयोग सदैव एकवचन में होता है?  
(A) प्रत्येक (B) आँसू  
(C) दर्शन (D) प्राण [A]
177. वह ध्वनि जिसके उच्चारण में श्वास की मात्रा कम निकलती है, कहलाती है -  
(A) अर्द्धस्वर (B) अव्यय  
(C) अविकारी (D) अल्पप्राण [D]
178. शुद्ध वर्तनी शब्द है -  
(A) प्रदर्शनी (B) आखरी  
(C) लौकिक (D) स्वस्थ [C]
179. अशुद्ध शब्द है -  
(A) श्रृंगार (B) सृष्टि  
(C) श्रृंखला (D) गृहिणी [A,C]
180. 'अन्वेषण' में संधि है-  
(A) स्वर संधि (B) व्यंजन संधि  
(C) गुण संधि (D) दीर्घ संधि [A]
181. 'अन्वय' शब्द का सही संधि-विच्छेद होगा  
(A) अनु+अय (B) अन्वय  
(C) अन्व+य (D) अनु+अय [A]
182. 'क्षिति' शब्द का सही अर्थ है  
(A) आकाश (B) हानि  
(C) वायुमण्डल (D) पृथ्वी [D]
183. एक ही समय में रहने वाला-  
(A) समसामयिक (B) असामयिक  
(C) सामयिक (D) गैर सामयिक [C]
184. 'दुस्साहस' का उचित संधि विच्छेद है-  
(A) दुष्+साहस (B) दुस् + साहस  
(C) दुर+साहस (D) दुः + साहस [D]
185. विदेशी उपसर्ग से बना शब्द है-  
(A) तिपाई (B) दुरंगा  
(C) दरअसल (D) चिरकाल [C]
186. सर्वनाम से बनी भाववाचक संज्ञा है-  
(A) लड़कपन (B) अपनापन  
(C) चतुराई (D) पशुता [B]
187. "प्रधानाचार्य ने सतीश को बुलाया।" दर्शाता है-  
(A) कर्तृवाच्य (B) कर्मवाच्य  
(C) भाववाच्य (D) संभाव्यवाच्य [A]
188. 'परुष' का अर्थ है -  
(A) नर (B) मनुष्य  
(C) कठोर (D) भाग्य [C]
189. 'वसन व्यसन' शब्द युग्मों का अर्थ होता है-  
(A) घूमना-बर्ताव (B) वस्त्र-बुरी लत  
(C) मदिरा-आदत (D) युद्ध-बर्ताव [B]
190. भाववाचक संज्ञा को दर्शाने वाला विकल्प है -  
(A) आलसी (B) निज  
(C) मनुष्य (D) थकावट [D]
191. 'जगन्नाथ' शब्द में संधि है -  
(A) गुण संधि (B) यण संधि  
(C) व्यंजन संधि (D) विसर्ग संधि [C]
192. विलोम शब्दों को दर्शाने वाला विकल्प नहीं है

- (A) विपदा-आपदा (B) सम्मुख-विमुख  
(C) स्तुति-निंदा (D) सृष्टि-प्रलय [A]
193. शीघ्र प्रसन्न होने वाला कहलाता है -  
(A) शाश्वत (B) प्रसन्नचित्त  
(C) मिष्ठभाषी (D) आशुतोष [D]
194. 'संतोष' शब्द में उपसर्ग है -  
(A) स (B) सन्  
(C) संत (D) सम् [D]
195. 'बगुला भगत होना' मुहावरे का अर्थ होता है-  
(A) चापलूसी करना (B) पाखंडी होना  
(C) भेद बताना (D) भजन करना [B]
196. 'राम पढ़कर सो गया।' वाक्य दर्शाता है-  
(A) समापिका क्रिया (B) अनुकरणात्मक क्रिया  
(C) प्रेरणार्थक क्रिया (D) पूर्वकालिक क्रिया [D]
197. 'बहुत चतुराई दिखाना' को बताने वाला मुहावरा है -  
(A) कलेजा टूक टूक होना (B) कीचड़ उछालना  
(C) कच्चा चिट्ठा खोलना (D) कान कतरना [D]
198. "मुझे थोड़ी चाय दो।" यहाँ 'थोड़ी' शब्द किस विशेषण को दर्शाता है?  
(A) गुणवाचक (B) परिमाणवाचक  
(C) सार्वनामिक (D) संख्यावाचक [B]
199. बहुव्रीहि समास को दर्शाने वाला विकल्प है-  
(A) दशमुख (B) चौराहा  
(C) दुपहर (D) चौपाया [A]
200. शुद्ध शब्द है-  
(A) जिह्वा (B) चिन्ह  
(C) आह्वान (D) आल्हाद [C]

**CET 12th Level**

बेहतरीन कंटेंट युक्त लक्ष्य  
क्लासेज द्वारा प्रकाशित बुक सेट

**BUY NOW**  
₹1499  
₹999

Register Now **6376491126** GET IT ON  